

物理学(13)

担当: 白井 英俊

Email: sirai@sist.chukyo-u.ac.jp

13章 運動量と角運動量

運動量、力積、角運動量について説明

運動量と力積の関係式、
角運動量保存則、
中心力による運動について学ぶ

13.1 運動量と運動量変化則

英語で書けば momentum --- スポーツで使われる「モーメンタム」と同じ語

運動量 $p=(p_x, p_y, p_z) = mv$

速度 $v=(v_x, v_y, v_z)$ で運動する質量 m の質点の「いきおい」を表す物理量

運動量の3つの成分:

$$p_x = mv_x \quad p_y = mv_y \quad p_z = mv_z$$

単位は、kg・m/s

速度が小さくとも質量が大きければ大きな「いきおい」を持つ

問34

直線上を速さ10m/sで走る質量4000kgのトラックがある。質量1000kgの自動車がこれと同じ「いきおい」をもつために必要な速さを求めよ。

[解] このトラックの運動量の大きさ p は 運動量の定義より

$$p = 4000 \times 10 = 4.0 \times 10^4 \text{ kg} \cdot \text{m/s}$$

1000kgの質量の自動車がこれと同じ運動量を持つために必要な速さを v とすると、

$$v = 4.0 \times 10^4 / 1000 = 4.0 \times 10 \text{ m/s}$$

運動量変化則

力 F を受けて運動する質点の運動方程式(v は速度)

$$m \frac{dv}{dt} = F$$

を運動量 $p (=mv)$ を用いて書き換える: (m は定数なので)

$$m \frac{dv}{dt} = \frac{d(mv)}{dt} = \frac{dp}{dt} = F \quad (13.1.3)$$

運動量変化則

運動量の時間変化率は、質点にはたらいている力に等しい

13.2 運動量原理: 運動量の変化と力積の関係

$$\frac{dp}{dt} = F \quad (13.1.3)$$

この両辺を時刻 $t=t_1$ から $t=t_2$ まで t で積分する:

$$\text{左辺: } \int_{t_1}^{t_2} \frac{dp}{dt} dt = p(t_2) - p(t_1)$$

$$\text{右辺: } \int_{t_1}^{t_2} F dt \quad \text{----} \quad \text{時間} \Delta t = t_2 - t_1 \text{ に対する力の力積}$$

単位は $\text{N} \cdot \text{s}$

(13.1.3)を書き直すと

$$p(t_2) - p(t_1) = \int_{t_1}^{t_2} F dt \quad (13.2.4)$$

運動量原理 運動量の変化量は、その間にはたらいた力の力積に等しい

平均の力

力 F が一定の場合：

$$\text{力積} = \int_{t_1}^{t_2} \mathbf{F} dt = \mathbf{F}(t_2 - t_1)$$

力 F が時刻とともに変化する場合：

$$\text{力積} = \langle \mathbf{F} \rangle \times (t_2 - t_1)$$

とする。ここで $\langle \mathbf{F} \rangle = \frac{1}{t_2 - t_1} \int_{t_1}^{t_2} \mathbf{F} dt$ 平均の力

これを使った運動量原理 (公式13.1)

$$\mathbf{p}(t_2) - \mathbf{p}(t_1) = \langle \mathbf{F} \rangle \times (t_2 - t_1) = \int_{t_1}^{t_2} \mathbf{F} dt \quad (13.2.8)$$

例題13.1 平均の力

速さ $v = 40 \text{ m/s}$ で飛んできた質量 $m = 0.10 \text{ kg}$ のボールをバットで一撃して、飛んできた方向に同じ速さ v で打ち返した。ボールとバットの接触時間を $\Delta t = 0.20 \text{ s}$ として、バットがボールに与えた平均の力の大きさを求めよ。

[解] 飛んできたボールの運動量 p は、初めに飛んできた方向を正とすると、

$$p = mv = 40 \times 0.10 = 4.0 \text{ kg} \cdot \text{m/s}$$

打ち返されたボールの運動量 p' は、飛んできた方向と逆向きなので、

$$p' = -mv = -40 \times 0.10 = -4.0 \text{ kg} \cdot \text{m/s}$$

平均の力の大きさを $\langle F \rangle$ とすると、運動量原理から

$$p - p' = 4.0 - (-4.0) = 8.0 = \langle F \rangle \times 0.20 \quad \text{これから、} \langle F \rangle = 40 \text{ N}$$

13.3 角運動量と角運動量変化則

角運動量：質点があもつ回転運動の「いきおい」を表す物理量

点Oを原点として2次元直交座標系 O-xyをとり、xy平面内での点Oの周りの回転運動(z軸周りの回転)を考える

z軸周りの角運動量L：z軸周りの運動量 $\mathbf{p} = (p_x, p_y) = m\mathbf{v} = (mv_x, mv_y)$ のモーメントとして定義：

$$L = hp = hmv = xp_y - yp_x = xmv_y - ymv_x \quad (13.3.10)$$

h ：運動量の方角とz軸との距離

角運動量の単位は $\text{kg}\cdot\text{m}^2/\text{s}$

角運動量Lは力のモーメントと同様に反時計回りの量が正

例題13.2 円運動の角運動量

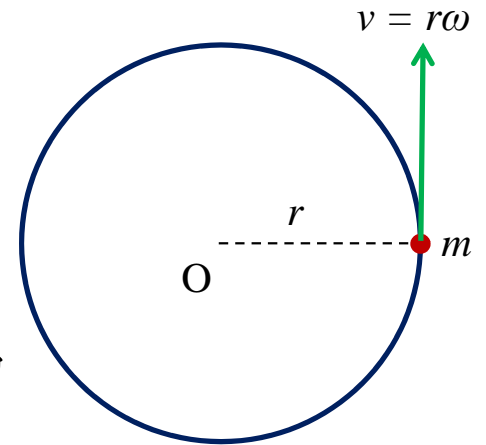
xy 平面内において一定半径 r の円周上を角速度 ω で円運動する質量 m の質点がある。円の中心点 O の周りの角運動量を求めよ。

[解] (13.3.10)式から、角運動量 L は運動量 p 、運動量の方向と中心点 O との距離 h を用いて

$$L = hp$$

運動量 p を求める。円運動しているので、質点の速度 v の方向は円の接線方向、大きさは $r\omega$ であるから、運動量の大きさ $p = mv = mr\omega$

また、図より $h = r$ であるから、 $L = hp = rmv = mr^2\omega$ (13.3.11)



点Oのまわりの**慣性モーメント** $I \equiv mr^2$ により、 $L = I\omega$ と書ける

問35 角運動量を求める

半径80mの円周上を速さ 50 m/s で動く質量1000 kgの質点がある。
この質点の円の中心点のまわりの角運動量を求めよ。

[解] 例題13.2 の類題である。

$r = 80 \text{ m}$ 、 $v = 50 \text{ m/s}$ 、 $m = 1000 \text{ kg}$ として角運動量を求める

(13.3.11) 式から、 $L = rmv = 80 \times 1000 \times 50 = 4.0 \times 10^6 \text{ kg} \cdot \text{m}^2/\text{s}$

問36 慣性モーメントと運動エネルギー

半径 r の円周上を動く質点の運動エネルギーを角速度 ω と円の中心点の周りの慣性モーメント I を用いて表わせ

[解] 例題13.2から、半径 r の円周上を動く質点の速さを v とすると $v=r\omega$ と表される

したがって、質点の運動エネルギーは $\frac{1}{2}mv^2 = \frac{1}{2}m(r\omega)^2 = \frac{1}{2}mr^2\omega^2$

ここで中心点周りの慣性モーメント $I=mr^2$ であるから、

質点の運動エネルギーは慣性モーメント I を用いて

$\frac{1}{2}I\omega^2$ と表すことができる

運動エネルギーの式に似ていることに注意
慣性モーメントは回転における質量に相当
---「回転のしにくさ」を表す

角運動量変化則

成分が (F_x, F_y) で表される力 F を受けて、 xy 平面上を運動する質量 m の質点について、 O 点のまわり(z 軸のまわり)の角運動量 L の時間的変化率を求める

質点の運動方程式： $m \frac{dv_x}{dt} = F_x \quad m \frac{dv_y}{dt} = F_y \quad (13.3.12)$

(13.3.10) $L = xmv_y - ymv_x$ を t で微分し、運動方程式を用いる

$$\begin{aligned} \frac{dL}{dt} &= \frac{d}{dt}(xmv_y - ymv_x) = \frac{dx}{dt}mv_y + xm\frac{dv_y}{dt} - \left(\frac{dy}{dt}mv_x + ym\frac{dv_x}{dt} \right) \\ &= v_x mv_y + xF_y - (v_y mv_x + y F_x) \\ &= xF_y - y F_x \end{aligned} \quad (13.3.13)$$

角運動量変化則(続)

$$\frac{dL}{dt} = xF_y - yF_x \quad (13.3.13)$$

右辺の式は、 z 軸周りの力のモーメント (うでの長さ×力の大きさ)

これを N で表すと

$$\frac{dL}{dt} = N \quad (13.3.14) \quad \text{角運動量変化則}$$

つまり、「 z 軸周りの角運動量 L の時間的变化率は、 z 軸周りの力のモーメント N に等しい」

問37 角速度変化則

一定半径 r の円周上を円運動する質量 m の質点がある。円の中心点の周りの力のモーメントを N として、この質点の角速度 ω を決定する微分方程式 $mr^2 \frac{d\omega}{dt} = N$ が角速度変化則から得られることを示せ

[解] (13.3.11)から $L = rmv$ である。これを時刻 t で微分すると

$$\frac{dL}{dt} = rm \frac{dv}{dt} \quad \text{ここで、} v = r\omega \text{ だから、}$$

$$\frac{dL}{dt} = rm \frac{dv}{dt} = rm \frac{d(r\omega)}{dt} = mr^2 \frac{d\omega}{dt}$$

$$\text{ここで角速度変化則から} \quad \frac{dL}{dt} = N \quad \text{ゆえに、} \quad mr^2 \frac{d\omega}{dt} = N$$

13.4 角運動量保存則

角運動量保存則:

z 軸まわりの力のモーメント N が0ならば、角運動量は時間的に変化しない一定値である

説明: 角運動量変化則 (13.3.14) $\frac{dL}{dt} = N$

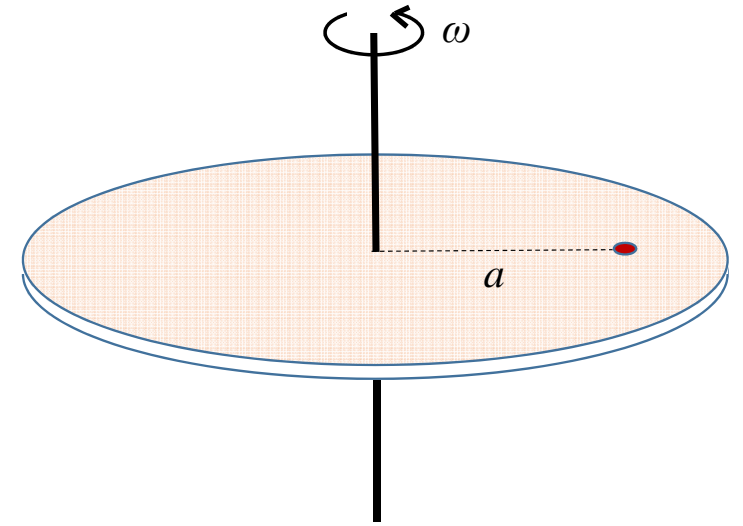
において、 $N=0$ とすると、 $\frac{dL}{dt} = 0$

これより(t で積分して) L の値は一定値となる

並進運動と回転運動の対応:	
並進運動	回転運動
速度 v	角速度 ω
質量 m	慣性モーメント I
運動量 mv	角運動量 $L (=I\omega)$
力 F	力のモーメント N
運動方程式 $\frac{d(mv)}{dt} = F$	角運動量変化則 $\frac{dL}{dt} = N$

例題13.3 虫の運動

右図のように、中心を通る鉛直固定軸の周りを自由に回転でき、質量の無視できる水平な円板が、小さな虫を乗せ、角速度 ω で回転している。回転軸から虫までの距離は a である。いま虫が回転軸方向に向かって歩き出し、回転軸からの距離が $\frac{a}{2}$ の所まで来た時、円板の角速度を求めよ。



[解] 虫の質量を m 、求める角速度を ω' として考える。

(13.3.11)より回転軸と虫との距離が a のときの角運動量 L と、距離が $\frac{a}{2}$ のときの角運動量 L' は、

$$L = ma^2\omega \quad L' = m\left(\frac{a}{2}\right)^2\omega'$$

角運動量保存則から $L=L'$

$$\therefore \omega' = 4\omega$$

一般の空間運動の場合の角運動量変化則

今までは、 xy 平面内での点 O まわりの回転運動だけを考えてきた
--- だから、 z 軸まわりの回転しか考えてこなかった

一般の空間運動の場合は、 yz 平面(x 軸周り)と zx 平面(y 軸周り)の
回転運動も考える必要がある

$$\text{角運動量 } L = (L_x, L_y, L_z) = (yp_z - zp_y, zp_x - xp_z, xp_y - yp_x)$$

$$\text{力のモーメント } N = (N_x, N_y, N_z) = (yF_z - zF_y, zF_x - xF_z, xF_y - yF_x)$$

x 軸、 y 軸、 z 軸周りの角運動量： L_x, L_y, L_z

x 軸、 y 軸、 z 軸周りの力のモーメント： N_x, N_y, N_z

一般の空間運動の場合の角運動量変化則(続)

$$\text{角運動量 } L = (L_x, L_y, L_z) = (yp_z - zp_y, zp_x - xp_z, xp_y - yp_x)$$

$$\text{力のモーメント } N = (N_x, N_y, N_z) = (yF_z - zF_y, zF_x - xF_z, xF_y - yF_x) \quad (13.4.16)$$

公式 13.3 一般の空間運動の場合の角運動量変化則

$$\frac{dL}{dt} = N \quad (13.4.17)$$

r , p , F をそれぞれ、位置、運動量、力のベクトルとすると

$$L = r \times p \quad (13.4.18)$$

$$N = r \times F \quad (13.4.19)$$

注: $r = (x, y, z)$

$p = (p_x, p_y, p_z)$

$F = (F_x, F_y, F_z)$

一般の空間運動の場合の角運動量の変化と力積モーメントの関係 (角運動量原理)

時間 $\Delta t = t_2 - t_1$ に対する力の **力積モーメント**:

力のモーメントの時間積分 $\int_{t_1}^{t_2} \mathbf{N} dt$

単位は $\text{N}\cdot\text{s}^2$

$$\text{角運動量の変化量: } \int_{t_1}^{t_2} \frac{d\mathbf{L}}{dt} dt = \int_{L_1}^{L_2} d\mathbf{L} = \mathbf{L}(t_2) - \mathbf{L}(t_1)$$

角運動量原理: 角運動量の変化量は、その間にはたらいた力の力積モーメントに等しい

$$\mathbf{L}(t_2) - \mathbf{L}(t_1) = \int_{t_1}^{t_2} \mathbf{N} dt \quad (13.4.20)$$

13.5 中心力による運動

中心力: 力の作用線が常に定点を通る力、
つまり、常に定点と物体を結ぶ方向に力がはたらく
このときの定点を「**力の中心点**」という

中心力の例: 太陽が惑星に及ぼす万有引力
このときの中心点は太陽

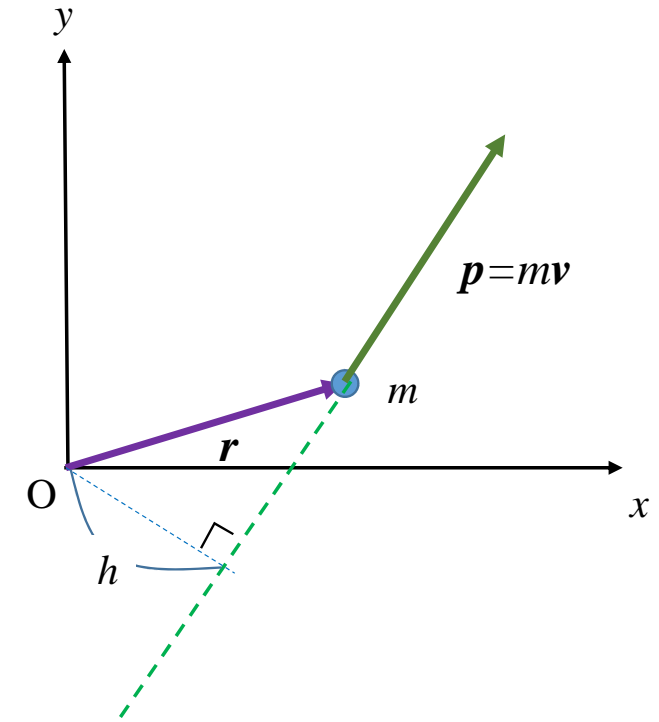
質量 m の質点が中心点 O からの中心力だけをうけて一つの平面内
(xy 平面)で運動する場合を考える

中心力と角運動量保存則

力が中心力なら、定義から、その力の作用線は常に力の中心点を通る

⇒ 力の中心点 O と力の作用線の距離は 0

⇒ 力の中心点の周りの力のモーメントは 0



中心点周りの力のモーメントが 0 だから、角運動量保存則より、
中心点の周りの角運動量(L)は時間的に変化しない一定値

$$L = \text{一定値} = hmv$$

中心力と面積速度一定の法則

面積速度: 力の中心点と質点を結ぶ線分が単位時間あたりに描く面積の割合

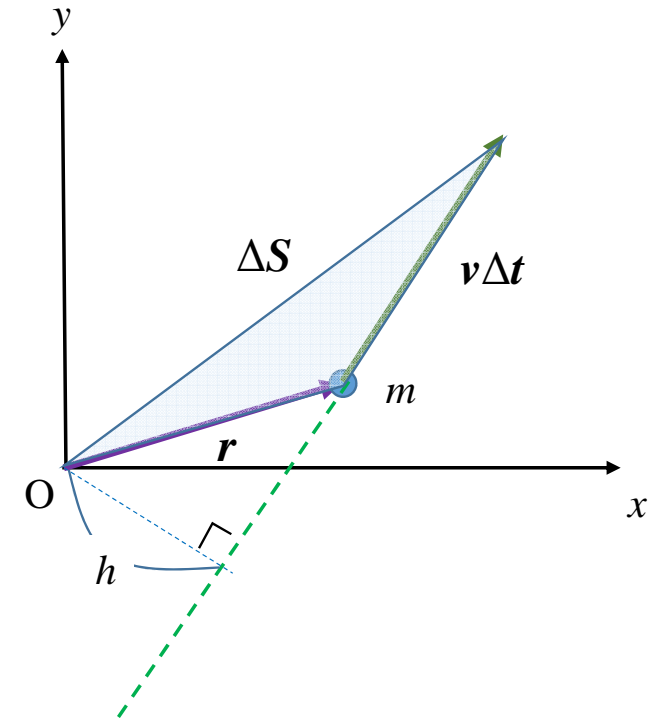
ΔS : 力の中心点と質点を結ぶ線分が Δt 秒間に描く面積

$$\Delta S = \frac{1}{2} h v \Delta t \quad (v: \text{質点の速度})$$

$$\frac{dS}{dt} = \lim_{\Delta t \rightarrow 0} \frac{\Delta S}{\Delta t} = \frac{1}{2} h v = \frac{h m v}{2m} = \frac{L}{2m} \quad (13.5.21)$$

前のスライドより L は一定値

面積速度一定の法則: 力の中心点と質点を結ぶ線分が単位時間あたりに描く面積の割合(面積速度)は一定



13.6 惑星の運動

太陽の周りを回る惑星の運動

惑星は太陽からの万有引力をうけ、ひとつの平面内で太陽を焦点の一つとする楕円軌道上を運動

太陽から惑星に及ぼす万有引力は **中心力**

⇒ 太陽の周りの惑星の**角運動量**は一定値

太陽と惑星を結ぶ線分が描く**面積速度**も一定

惑星運動に関するケプラーの法則

惑星運動についてのケプラーの発見

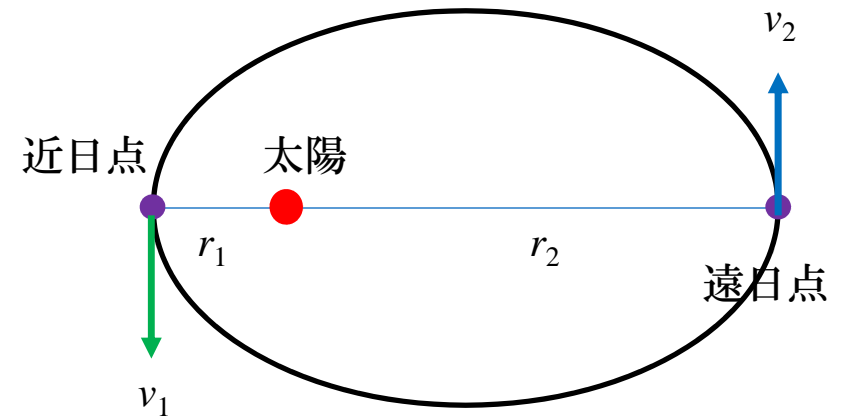
- i. どの惑星も太陽をひとつの焦点とする楕円軌道にそって回る
- ii. 太陽と惑星を結ぶ線分が単位時間に描く面積(面積速度)はそれぞれ一定
- iii. 各惑星の公転周期 T の2乗は、その楕円軌道の長半径 a の3乗に比例。ここで比例定数は各惑星に共通の値

ニュートンの万有引力の法則の発見 --- ケプラーの法則の理論的な説明。万有引力の法則と運動の法則からこれを導く

例題13.4 近日点速度と遠日点速度

太陽から楕円軌道の近日点、遠日点までの距離をそれぞれ r_1 , r_2 とする。

惑星が近日点を通過するときの速さと、遠日点を通過するときの速さを求めよ。



[解] 右図のように、惑星が近日点を通過する速さを v_1 、遠日点を通過するときの速さを v_2 とする。

面積速度一定の法則より、(面積速度=) $\frac{1}{2} r_1 v_1 = \frac{1}{2} r_2 v_2$

例題13.4 近日点速度と遠日点速度

面積速度一定の法則より、

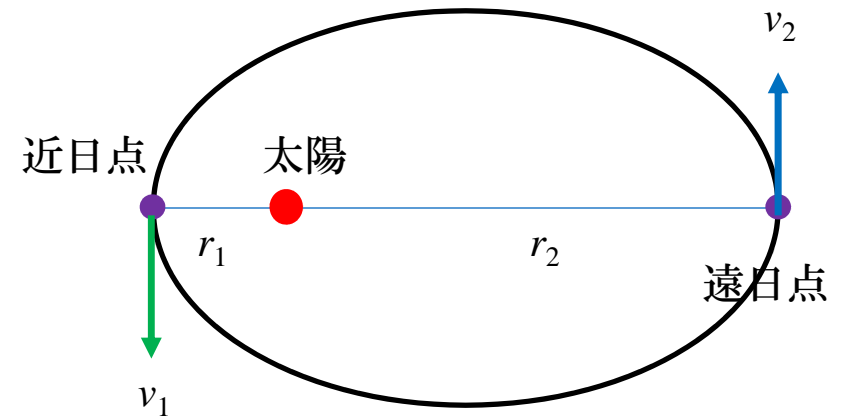
$$\frac{1}{2} r_1 v_1 = \frac{1}{2} r_2 v_2 \quad (13.6.22)$$

万有引力定数を G 、太陽の質量を M 、惑星の質量を m とすると、力学的エネルギー保存則より、

$$\frac{1}{2} m v_1^2 - G \frac{Mm}{r_1} = \frac{1}{2} m v_2^2 - G \frac{Mm}{r_2} \quad (13.6.23)$$

(13.6.22) から、 $v_2 = \frac{r_1}{r_2} v_1$ これを(13.6.23)に代入して

$$v_1 = \sqrt{\frac{2GM r_2}{r_1(r_1+r_2)}} \quad v_2 = \sqrt{\frac{2GM r_1}{r_2(r_1+r_2)}}$$



問38 ケプラーの惑星運動の法則の導出

惑星の運動が太陽の周りの等速円運動であると近似して、万有引力の法則からケプラーの惑星運動に関する第3法則(iii)を導出せよ。

教科書の解答があるのでここでは解説しない。

解答を見ずに取り組んでみてください。